

Пробное тестирование

Вариант 4126

ФИО _____

Город (область) _____

Район _____

Школа _____ Класс _____

Профильный предмет 1 **Всемирная История**

Профильный предмет 2 **Человек. Общество. Право**

Подпись учащегося _____

Внимание!

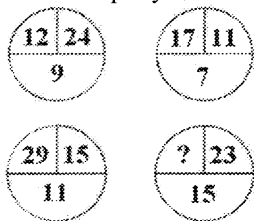
Данная книжка пробного тестирования разработана и прошла экспертизу в Национальном центре тестирования. Во избежание недостоверных копий, следует приобретать данную книжку пробного тестирования в Национальном центре тестирования и его филиалах.

МАТЕМАТИЧЕСКАЯ ГРАМОТНОСТЬ

Инструкция: Вам предлагаются задания с одним правильным ответом из пяти предложенных. Выбранный ответ необходимо отметить на листе ответов путем полного закрашивания соответствующего кружка.


1. Каждая фигура круглая. Все фигуры красные. Выберите верное утверждение:
A) все круглые фигуры красные
B) некоторые круглые фигуры красные
C) углы и фигуры - круглые и красные
D) бывают фигуры с круглыми углами
E) бывают фигуры с красными углами
2. Напишите самое маленькое четырёхзначное число, которое при делении на 6 даёт в остатке 5.
A) 1001
B) 1002
C) 1100
D) 1010
E) 1000
3. Угол величиной в 4° рассмотрели под лупой, которая увеличивает изображение в 3 раза. Какой величины окажется угол?
A) 4°
B) 16°
C) 12°
D) 36°
E) 8°
4. Сколькими способами могут занять очередь в школьный буфет 5 человек?
A) 6
B) 24
C) 720
D) 120
E) 36
5. В среднем из 200 изделий 6 бракованных. Какова вероятность события, что случайно выбранное изделие окажется годным?
A) 0,97
B) $\frac{1}{194}$
C) $\frac{1}{190}$
D) 0,03
E) $\frac{3}{97}$

6. Вставьте пропущенное число



- A) 16
- B) 17
- C) 33
- D) 37
- E) 25

7. На диаграмме показана численность населения в пяти городах Казахстана. Численность населения в Астане самая высокая, в Кустанае выше, чем в Атырау, но ниже чем в Усть-Каменогорске, а в Атбасаре - самая малая. Тогда численность населения в Кустанае составляет



- A) 150 тыс. человек
- B) 350 тыс. человек
- C) 50 тыс. человек
- D) 250 тыс. человек
- E) 300 тыс. человек

8. В вазе стоят 10 белых и 5 желтых роз. Сколькими способами можно выбрать из вазы 5 роз одного цвета?

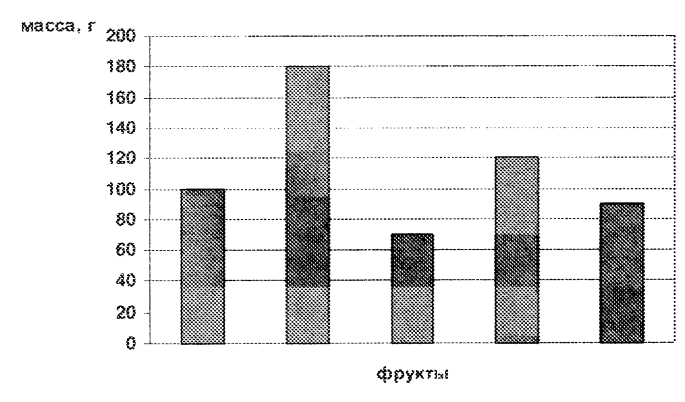
- A) 254
- B) 253
- C) 100
- D) 250
- E) 50

9. Числа даны в определенной последовательности. Найдите x и y .

5	15	45	55	165	175	525	x
7	14	20	40	46	92	98	y

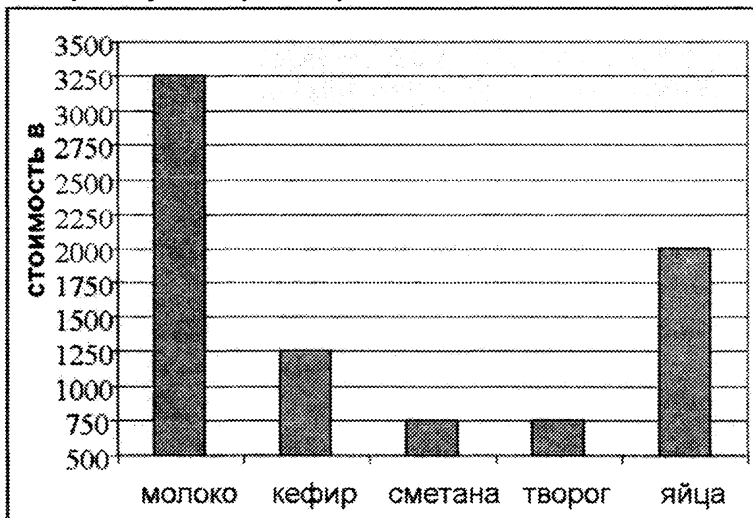
- А) $x = 150, y = 200$
 В) $x = 100, y = 150$
 С) $x = 535, y = 196$
 D) $x = 196, y = 535$
 Е) $x = 240, y = 530$
10. Дано шесть точек, любые три из них не лежат на одной прямой. Через каждые две точки проведена прямая. Сколько всего таких прямых можно провести ?
- А) 13
 В) 16
 С) 15
 D) 12
 Е) 11
11. Адиль и Мадина живут на одной улице. В одну сторону от дома Адилья находятся 27 домов, а в другую 13 домов. Мадина живет в доме, который находится в середине улицы. Выберите верное утверждение.
- А) Между домами ребят 7 домов
 В) Адиль живет в 15 доме
 С) Всего 40 домов на улице
 D) Между домами ребят 6 домов
 Е) Мадина живет в 20 доме
12. В семье трое детей – два мальчика и одна девочка. Их имена начинаются с букв А, В и Г. Среди имен, начинающихся с букв А и В, есть имя одного мальчика. Среди имен, начинающихся с букв В и Г, также есть имя одного мальчика. С какой буквы начинается имя девочки? (Найдите правильный ответ)
- А) Имя девочки начинается с буквы А
 В) Имя девочки начинается с буквы А или Г
 С) Имя девочки не начинается с буквы В
 D) Имя девочки начинается с буквы Г
 Е) Имя девочки начинается с буквы В

13. На диаграмме показан вес пяти фруктов. Вес груши самый большой, яблоко легче апельсина, но тяжелее лимона, а мандарин самый легкий. Тогда вес апельсина равен



- A) 180 г
- B) 120 г
- C) 70 г
- D) 100 г
- E) 90 г

14. На диаграмме показаны ежемесячный расход семьи из 5 человек на продукты питания. Тогда на одного члена семьи тратится в месяц на сметану и творог следующая сумма:



- A) 300 тенге
B) 240 тенге
C) 150 тенге
D) 400 тенге
E) 500 тенге
15. В двух карманах было 150 монет. Затем семнадцать монет были перемещены из одного кармана в другой. В результате, количество монет во втором кармане стало в два раза больше, чем в первом. До перемещения в первом кармане было
- A) 67 монет
B) 50 монет
C) 75 монет
D) 87 монет
E) 85 монет


16. Чайка может подниматься на высоту 2000 м, а беркут на 5 % выше чем чайка. Журавль может подниматься на высоту, равную $\frac{31}{41}$ высоты полета чайки и беркута, вместе взятых

Графа А	Графа В
Высота полета журавля	3 км

Выберите верное утверждение:

- A) значение графы В на 100 м больше
B) значение графы А на 100 м меньше
C) $A > B$
D) $A = B$
E) $A < B$
17. На дипломатическом приеме международные представители приветствовали друг друга рукопожатием. Каждый из гостей здоровался ровно один раз с каждым. Посчитали, что всего было 28 приветственных рукопожатий. Сколько международных представителей было на приеме?
A) 8
B) 9
C) 7
D) 6
E) 14
18. На кондитерской фабрике мармелад упаковывают в большие и маленькие коробки в зависимости от сорта и вида мармелада. В большие коробки кладут от 5 кг до 7 кг мармелада, а в маленькие от 2 кг до 3 кг мармелада. Оказалось, что в итоге упаковали от 37 кг до 53 кг мармелада и задействовали коробки обоих видов. Сколько потребовалось больших коробок для упаковки мармелада, если маленьких коробок было 6?
A) 4
B) 3
C) 5
D) 6
E) 8
19. В числовой последовательности найдите $x + y$:
16; 15; 18; 17; x ; y ...
A) 21
B) 40
C) 39
D) 41
E) 38

20. Мякоть вишни окружает косточку толщиной, равной диаметру косточки. Считая шарообразной форму вишни и косточки, найдите отношение объема мякоти к объему косточки



- A) 55:1
- B) 13:1
- C) 26:1
- D) 39:1
- E) 42:1

ТЕСТ ПО МАТЕМАТИЧЕСКОЙ ГРАМОТНОСТИ ЗАВЕРШЁН

ГРАМОТНОСТЬ ЧТЕНИЯ

Инструкция: Вам предлагаются тестовые задания к 4 текстам с выбором одного правильного ответа из пяти предложенных. Внимательно прочитайте каждый текст и выполните задания по каждому тексту. Выбранный ответ необходимо отметить на листе ответов путем полного закрашивания соответствующего кружка.

Текст 1**Дом Пушкина**

Дом Пушкина в Михайловском хоть и музей, а живой. Он наполнен теплом, приветлив и светел. Комнаты его всегда пронизаны запахами старого дерева и свежей земли.

Но вот приходит время, и на усадьбе зацветают липы. Тогда дом пропитывается запахами воска и мёда.

В доме много хорошего псковского льняного белья – скатертей, полотенец, занавесей. У льна свой аромат – прохладный, крепкий.

Вещи из льна обладают удивительным свойством – там, где они, всегда пахнет свежестью. Учёные говорят, что лён сберегает здоровье человека.

Пушкинские крестьяне, как и все псковичи, издревле любили выращивать лён, и он славился по всей России и за её пределами.

От льна, цветов, яблок в пушкинских комнатах всегда пахнет солнцем, чистотой, хотя в иной день через музей проходят тысячи людей.

1. Неверное утверждение

- А) лён оберегает здоровье людей
- В) комнаты в доме Пушкина пахнут хорошим деревом и землей
- С) в пушкинском доме всегда пахнет книгами
- Д) лён знаменит не только на просторах России, но и за рубежом
- Е) в доме Пушкиных много льняных вещей, изготовленных мастерами из Пскова

2. Запах, распространяемый в доме Пушкина в период цветения

- А) прохлады и крепости
- В) воска и меда
- С) хорошего дерева и свежей земли
- Д) свежести и благоухания
- Е) солнца и чистоты

Текст 2

1. На сегодняшний день граффити (искусство надписи на улицах) представляет собой преимущественно некоммерческое явление, однако практически в каждом городе земного шара можно найти какое-нибудь кафе или книжную лавку, оформленную в этом стиле.

2. Картины, размещаемые на стенах и заборах, то приобретают большую эстетичность, то сменяются надписями, имеющими исключительно политический контекст. Это обусловлено, в первую очередь, ситуацией в той или иной стране, уровнем стабильности и благополучия населения.

3. Несмотря на то что сама «мода» к прекрасному определенно имеет место, в минуты народных потрясений изначальное назначение искусства граффити возвращается, и за периодом подъема культуры уличных картин следует вынужденный спад.

4. Как относиться к подобным проявлениям искусства – личное дело каждого. Кто-то предпочитает их вовсе не замечать, кто-то пишет о них гневные сообщения в личных блогах, а кто-то коллекционирует и получает удовольствие от простого созерцания свободы выражения.

5. Неудачно написанная надпись может испортить порой даже самое великое здание, считающееся одним из величайших архитектурных памятников. *Но порой всего несколько цветных итрихов способны превратить в настоящий объект искусства самые обыкновенные развалины...*

3. Выделенное предложение является
- A) выводом к абзацу 1
 - B) обобщением мыслей абзаца 5
 - C) тезисом, к которому представлены аргументы
 - D) опровержением сказанного в предыдущем абзаце
 - E) гипотезой абзаца 3
4. Информация, отсутствующая в тексте
- A) Граффити встречаются по всему миру.
 - B) Граффити – это культура уличных картин.
 - C) Для граффити характерна свобода самовыражения.
 - D) В искусстве граффити есть периоды расцвета и упадка.
 - E) Граффити – это наследие нашего великого прошлого.
5. Абзац, в котором говорится о разном восприятии граффити
- A) 2
 - B) 5
 - C) 1
 - D) 3
 - E) 4

6. Зависимость содержания уличных картин от различных условий раскрывается в абзаце
- A) 3
 - B) 5
 - C) 1
 - D) 2
 - E) 4

Текст 3**Самовар**

Самовар предназначен для того, чтобы греть воду для чая. Первая самоварная фабрика открылась в Туле в тысяча семьсот семьдесят восьмом году, так что угольным самоварам в музейной коллекции, возможно, более двухсот лет.

Внутри самовара есть топка, куда накладывают угли, которые горят и отдают своё тепло воде, налитой в самовар. Древесный уголь – незаменимое топливо, и запасались им заранее. Если вдруг затухнут угли в топке, то на помощь приходил обыкновенный сапог, старый, поношенный, уже негодный. Голенище его надевали на верхнюю часть топки, и сапог в руках человека выполнял ту же работу, что и кузнечные мехи в печи-горне.

Хозяйка все время присматривала, как горят угли: тлеют ли они, разгораются хорошо или еле-еле. Иной раз не углядит – и выкипит вода в самоваре. Скорей новый надо ставить: вдруг ненароком кто зайдет. Трудлюбивые хозяйки так начищали свой самовар, что как в зеркало в него смотрись. Полубуется на себя хозяйка да улыбнется. А улыбка, как известно, всех красит.

Раньше в любой избе самовару на столе отводилось самое видное и почётное место. Приходилось переезжать семье в новую избу – в первую очередь самовар перевозили, а потом уж всё остальное. Если поздней осенью или зимой холодной снаряжали кого-нибудь в дальнюю дорогу, то в сани зачастую и горячий самовар ставили. Около него, как у печи, согреться можно в дороге да кипяточку попить, если захочется. Угольный самовар тем и замечателен, что, пока угли в нём не перегорели, вода остаётся горячей.

7. Для усиления тяги в топке самовара использовали

- А) древесный уголь
- В) длинную кочергу
- С) щипцы для угля
- Д) голенище сапога
- Е) березовую кору

8. Предложение не соответствует смыслу утверждения: *Самовар предназначен для того, чтобы греть воду для чая.*
- А) Около него, как у печи, согреться можно в дороге да кипяточку попить, если захочется.
 - В) Внутри самовара есть топка, куда накладывают угли, которые горят и отдают своё тепло воде, налитой в самовар.
 - С) Хозяйка все время присматривала, как горят угли: тлеют ли они, разгораются хорошо или еле-еле.
 - Д) Хозяйка иной раз не углядит – и выкипит вода в самоваре.
 - Е) Использовали как зеркало, чтобы в него смотреться, любоваться на себя.
9. Стиль текста
- А) публицистический
 - В) разговорный
 - С) научный
 - Д) официально-деловой
 - Е) стихотворный
10. Тема текста
- А) способ приготовления чая
 - В) ценность самовара
 - С) виды самоваров
 - Д) способы изготовления самоваров
 - Е) причины исчезновения самоваров
11. Смысл предложения: *Приходилось переезжать семье в новую избу – в первую очередь самовар перевозили, а потом уж всё остальное.*
- А) встреча гостей
 - В) бесполезность
 - С) хрупкость
 - Д) ценность
 - Е) громоздкость
12. Основное свойство самовара
- А) Самовар отдает своё тепло окружающему воздуху.
 - В) В самоваре есть топка, где сгорает топливо.
 - С) Вода остаётся горячей до тех пор, пока тлеют угли.
 - Д) Самовары быстро нагреваются и быстро остывают.
 - Е) При затухании углей в топке используют сапог как мехи.

Текст 4

За несколько дней до войны Академия архитектуры в Москве решила реставрировать редкие и наиболее ценные издания своей библиотеки. Огромные тома Витрувия или Палладио, источенные червями или обветшавшие от времени, требовали тончайшего мастерства переплётчика, который должен был вернуть им первоначальный вид. Такие золотые руки нашлись в Москве. Это был старый переплётчик Эльяшев, родом из Николаева, человек, тонко чувствовавший эпоху, бескорыстно влюблённый в своё дело, виртуозный переплётчик и футлярщик. Его пригласили в библиотеку Академии архитектуры, и Эльяшев реставрировал там или, вернее, воссоздал ряд замечательных книг, так что даже самый опытный взгляд не обнаружил бы изъянов. Я всегда с уважением смотрел на Эльяшева, который обращался с книгой так, словно разговаривал с ней. В 1941 году, во время эвакуации, я потерял Эльяшева из виду в сложных событиях войны и считал, что старик не вынес, вероятно, тяжёлых потрясений. Но однажды, года через два после окончания войны, я узнал, что Эльяшев жив и даже работает продавцом в книжном киоске Академии наук на одной из станций московского метро. Я поехал на эту станцию и отыскал Эльяшева.

– Как я рад, что вы живы, – сказал я ему, – ведь часто вспоминал ваши руки.

– Жив-то я жив, – ответил он, – но с руками мне пришлось проститься. Он показал мне свои руки, на которых были ампутированы все пальцы, за исключением двух – большого и указательного, которыми он и действовал.

– Я отморозил их на лесозаготовках. Ноги у меня были тоже отморожены, но не в такой степени.

– Неужели без вас не обошлись на лесозаготовках? Ведь вам больше шестидесяти лет, – сказал я, готовый предположить чьё-то равнодушие к чужой старости.

– Нет, я пошёл добровольно, — ответил он с твёрдостью. – Разве мог я остаться без дела, когда вся страна воюет? Нет, я не вправе был поступить иначе.

Я вспомнил о своих книгах, которые переплёл Эльяшев, вспомнил редчайшие издания в библиотеке Академии архитектуры, которым этот старик дал вторую жизнь.

– Как же мне жалко ваши руки, Эльяшев, – сказал я, искренне скорбя за него. — Они у вас были как у скрипача.

– Конечно, руки мои пропали... но если я принёс ими хоть сколько-нибудь пользы в войну, что сейчас говорить о них.

Он сказал это, нисколько не рисуясь, и я подумал о том, что, может быть, спиленное его шестидесятилетними руками дерево послужило топливом для двигателя или станка, на котором изготавливали оружие. Неделию спустя Эльяшев неожиданно пришёл ко мне.

– Вот что, – сказал он, – дайте мне какую-нибудь вашу самую любимую книгу... я постараюсь переплести её, и это будет в последний раз в моей жизни.

Я дал ему редкость – сборник высоких мыслей «Похвала книге», и он переплёл её, орудуя двумя уцелевшими пальцами; вероятно, это стоило ему многих усилий, но он переплёл книгу, и она стоит у меня на полке и поныне. Она напоминает мне о том, что истинное существо человека проверяется в самых трудных испытаниях.

13. Высказывания, иллюстрирующие основную мысль текста

1. Позор перед Родиной хуже смерти.
2. Для Родины своей ни сил, ни жизни не жалею.
3. Кто делает то, что может, делает то, что должен.
4. Дом – вторая Родина.
5. Жить – Родине служить.

- A) 1, 3, 5
- B) 2, 3, 5
- C) 1, 4, 5
- D) 3, 4, 5
- E) 1, 3, 4

14. Значение глагола «рисоваться» в высказывании: *«Он сказал это, несколько не рисуясь».*

- A) вызывать интерес к профессии
- B) стараться показать себя с выгодной стороны
- C) виднеться, выделяться на чем-либо
- D) иметь воображение
- E) показывать себя с невыгодной стороны

15. Проблема, над которой размышляет автор

- A) Победа возможна без вклада в нее каждого члена общества
- B) В трудные моменты человек должен быть верен своей профессии
- C) Особенности выбора профессии
- D) О выборе человека и его понимании своего места в жизни
- E) Важность добровольной жертвы

16. Утверждение, подтверждающее мысль о том, что только в трудные периоды жизни можно увидеть истинный облик человека
1. «Я не вправе был поступить иначе»
 2. «Он переплёл книгу, орудуя двумя уцелевшими пальцами; вероятно, это стоило ему многих усилий»
 3. «Разве мог я остаться без дела, когда вся страна воюет?»
 4. «Руки мои пропали... но если я принёс ими хоть сколько-нибудь пользы в войну, что сейчас говорить о них»
 5. «Неделю спустя Эльяшев неожиданно пришёл ко мне»
- A) 1, 2, 3
B) 1, 3, 4
C) 1, 3, 5
D) 2, 4, 5
E) 2, 3, 4
17. Верное утверждение
- A) после окончания войны Эльяшев работал врачом
 - B) спиленное пятидесятипятiletними руками дерево послужило топливом
 - C) до войны Эльяшев работал продавцом в киоске
 - D) через три года после окончания войны, автор узнал, что Эльяшев жив
 - E) орудуя двумя уцелевшими пальцами, Эльяшев переплёл сборник высочайших мыслей «Похвала книге»
18. Место работы Эльяшева после окончания войны
- A) учитель
 - B) реставратор
 - C) библиотекарь
 - D) врач
 - E) продавец
19. Эльяшева пригласили переплетчиком в Академию архитектуры, потому что
- A) Эльяшев тонко чувствовал эпоху, и даже самый требовательный взгляд не обнаружил бы изъянов
 - B) Эльяшев не нуждался в оплате, так как был бескорыстно влюблен в свое дело
 - C) требовался переплетчик, который сможет быстро переплести большое количество книг
 - D) он был переплетчиком и футлярщиком родом из Николаева
 - E) Эльяшев был прагматичен и остроумен

20. Эльяшев, пойдя на лесозаготовки, руководствуется своим долгом перед Родиной. Значение слова «долг» в тексте
1. Денежные средства, которые кредитор передаёт заёмщику с условием их возврата
 2. Обязанность перед государством
 3. Невозможность поступить иначе
 4. Добровольный отказ от чего-нибудь в пользу кого-чего-нибудь
 5. Нравственные обязанности человека, выполняемые из побуждений совести
- A) 3, 4, 5
B) 1, 3, 5
C) 2, 4, 5
D) 2, 3, 4
E) 1, 2, 4

ТЕСТ ПО ГРАМОТНОСТИ ЧТЕНИЯ ЗАВЕРШЁН

ИСТОРИЯ КАЗАХСТАНА

***Инструкция:** Вам предлагаются задания с одним правильным ответом из пяти предложенных. Выбранный ответ необходимо отметить на листе ответов путем полного закрашивания соответствующего кружка.*

1. К эпохе неолита ученые относят:
 - A) изготовление глиняных изделий
 - B) начало изготовления орудий труда
 - C) изготовление лука и стрел
 - D) выделение человека из мира животных
 - E) появление наскальных рисунков
2. Вера человека в сверхестественную связь с каким-либо животным называется:
 - A) тотемизм
 - B) фетишизм
 - C) анимизм
 - D) магия
 - E) тенгрианство
3. Ставкой левого крыла кыпчакских племен был присырдарьинский город:
 - A) Аккорган
 - B) Баласагун
 - C) Аксумбе
 - D) Сыгнак
 - E) Куйрыктобе
4. Все средневековые города Жетысу располагались в основном:
 - A) вдоль летних кочевий
 - B) вдоль Великого Шелкового пути
 - C) на местах зимовок
 - D) у полноводных рек
 - E) у подножий гор
5. Хан Касым пришел к власти в:
 - A) 1514 году
 - B) 1511 году
 - C) 1519 году
 - D) 1510 году
 - E) 1517 году
6. В VI-III вв. до н.э. древние жители Казахстана торговали с государствами:
 - A) Русью, Речью Посполитой, Швецией
 - B) Венецией, Генуей, Флоренцией
 - C) Римом, Грецией, Византией
 - D) Месопотамией, Египтом, Эфталитами
 - E) Китаем, Индией, Персией

7. Эмир Тимур совершил поход против:
 - А) Моголистана, Китая, Бактрии
 - В) Великого княжества Литовского, Китая
 - С) Моголистана, Золотой Орды, Ак-Орды
 - Д) Китая, Московской Руси, Ак-Орды
 - Е) Монголии, Ак-Орды, Крестоносцев Европы
8. В 1886-1891 гг. главным управлением Степного края стал город:
 - А) Оренбург
 - В) Омск
 - С) Уральск
 - Д) Туркестан
 - Е) Ташкент
9. Последний фронт гражданской войны в Казахстане был ликвидирован в:
 - А) 1918 г.
 - В) 1926 г.
 - С) 1922 г.
 - Д) 1920 г.
 - Е) 1924 г.
10. На XXIX летних Олимпийских играх, прошедших в Пекине золотую медаль получил:
 - А) Е.Шыналиев
 - В) Т.Тигиев
 - С) Б.Сарсекбаев
 - Д) Е.Ибрамов
 - Е) А.Чилманов
11. Доктор исторических наук Е.Бекмаханов был осужден на 25 лет за положительную оценку восстания:
 - А) С. Датулы
 - В) Ж. Тленшиева
 - С) С. Касымова
 - Д) И. Тайманова
 - Е) К. Касымова
12. Кочевые саки поклонялись божествам:
 - А) деревьев и земли
 - В) рек и морей
 - С) цветов и неба
 - Д) солнца и войны
 - Е) гор и лесов
13. Древнегреческие авторы саков называют:
 - А) Тиграхаудами
 - В) Сарматами
 - С) Усунями
 - Д) Азиатскими скифами
 - Е) Канлами

14. В VIII в. территория Семиречья входила в состав:
- А) Кимакского государства
 - В) государство Огузов
 - С) Тюркешского каганата
 - Д) Кипчакского государства
 - Е) Восточнотюркского каганата
15. Возвышение роли биев в Казахском ханстве можно отнести к годам правления хана:
- А) Керей
 - В) Хакназара
 - С) Тауке
 - Д) Касыма
 - Е) Бурундука
16. Вторая волна переселения гуннов на территорию Казахстана датируется:
- А) II в. до н.э.
 - В) I в. н.э.
 - С) III в. н.э.
 - Д) I в. до н.э.
 - Е) II в. н.э.
17. По «Уставу» 1824 г. ханская власть была ликвидирована:
- А) в Букеевском ханстве
 - В) в Младшем жузе
 - С) в Старшем жузе
 - Д) на территории всего Казахстана
 - Е) взятием Среднем жузе
18. 316 стрелковая дивизия сражалась с фашистскими захватчиками под городом:
- А) Киев
 - В) Минск
 - С) Ленинград
 - Д) Сталинград
 - Е) Москва
19. В Западнотюркском каганате выполняли судебные функции:
- А) елтебер
 - В) баскаки
 - С) даруги
 - Д) буруки
 - Е) шад

20. Назовите территорию Казахстана, к которой имел отношение документ, отрывок из которого здесь приведён:

«§ 10. Частное управление... составляют султаны-правители, дистаночные начальники из киргизов и начальники аулов, из киргизов же назначаемые.

§ 11. При каждом султানে-правители постоянно находится казачий отряд из ста человек и более...

§ 12. При султанах-правителях состоят при каждом: помощник, письмоводитель, писец и пять рассыльных».

А) Старший жуз

В) Младший жуз

С) Касымовское царство

Д) Средний жуз

Е) Внутренняя орда

ТЕСТ ПО ИСТОРИИ КАЗАХСТАНА ЗАВЕРШЁН

ВСЕМИРНАЯ ИСТОРИЯ

Инструкция: Вам предлагаются задания с одним правильным ответом из пяти предложенных. Выбранный ответ необходимо отметить на листе ответов путем полного закрашивания соответствующего кружка.

1. Правитель Катпиз II выпускал свой деньги в древнем государстве:
A) Бактрия
B) Кушан
C) Парфия
D) Кашмир
E) Парс
2. Бог мудрости в древнем Египте:
A) Осирис
B) Амон-Ра
C) Тот
D) Бен-бену
E) Нут
3. В результате Первого крестового похода на завоёванных территориях образовано государство крестоносцев
A) Иерусалимское королевство
B) Латинская империя
C) Кордовский халифат
D) Эфталитское государство
E) Арабский халифат
4. Иван IV был объявлен первым царем Русского государства в
A) 1533 г.
B) 1493 г.
C) 1480 г.
D) 1547 г.
E) 1565 г.
5. В средневековом городе Багдаде был(а):
A) мавзолей И.Самани
B) буддийский храм
C) библиотека
D) театр
E) аптекарский приказ
6. Творение великого живописца Микеланджело Буанаротти
A) «Сикстинская мадонна»
B) «Мона Лиза»
C) «Рождение Венеры»
D) «Страшный суд»
E) «Подсолнухи»

7. Первое кругосветное путешествие возглавил:
- A) Ф.Магеллан
 - B) Васко да Гама
 - C) Х.Колумб
 - D) Б.Диаш
 - E) А.Веспуччи
8. Американскую регулярную армию в годы войны за независимость возглавлял
- A) С. Адамс
 - B) Т. Джефферсон
 - C) Д. Вашингтон
 - D) Т. Костюшко
 - E) Б. Франклин
9. Суэцкий канал находится в:
- A) Тунисе
 - B) Сирии
 - C) Ливане
 - D) Египте
 - E) Марокко
10. Начало промышленного переворота в Германии пришлось на
- A) 60-е гг. XIX в.
 - B) 70-е гг. XIX в.
 - C) 40-е гг. XIX в.
 - D) 30-е гг. XIX в.
 - E) 90-е гг. XIX в.
11. Арабская страна, перешедшая во второй половине XIX в. из-под власти Османской империи к Франции:
- A) Иордания
 - B) Египет
 - C) Тунис
 - D) Ливан
 - E) Ливия
12. Томас Мор считал, что причиной всех бедствий народа является:
- A) экспансия европейских государств
 - B) развитие науки
 - C) частная собственность
 - D) милитаризация государства
 - E) плохое образование правителей
13. Осенью 1978 г. в Кэмп-Дэвиде был подписан договор между
- A) Сирией и СССР
 - B) Израилем и Англией
 - C) Египтом и Израилем
 - D) Англией и Сирией
 - E) СССР и Испанией

14. Последствия японо-китайской войны 1894-1895 гг.
 - А) полная зависимость Китая от Японии
 - В) потеря Китаем провинции Шаньдун
 - С) полуколониальная зависимость Японии от Китая
 - Д) выплата 200 млн. лян контрибуции
 - Е) захват японцами бухты Цзяочжоу
15. Рур был оккупирован в январе 1923г.:
 - А) Франко-бельгийскими войсками
 - В) Англо-французскими войсками
 - С) Частями Российской армии
 - Д) Англо-американскими войсками
 - Е) Австро-венгерскими войсками
16. Премьер-министр лейбористского правительства Англии с 1945 по 1951 гг.:
 - А) Р.Макдональд
 - В) К.Эттли
 - С) Г.Макмиллан
 - Д) Н.Чемберлен
 - Е) У.Черчилль
17. Президенты США в 20-30 годы XX века
 - А) Л. Джордж, Р. Пуанкаре, Ю. Пилсудский
 - В) Н. Чемберлен, Л. Джордж, Р. Пуанкаре
 - С) Г. Гувер, У. Гардинг, Н. Чемберлен
 - Д) У. Гардинг, Н. Чемберлен, Л. Джордж
 - Е) К. Кулидж, Г. Гувер, У. Гардинг
18. Крупными торговыми центрами являлись итальянские города-государства являлись Венеция, Пиза и
 - А) Флоренция
 - В) Генуя
 - С) Верона
 - Д) Милан
 - Е) Рим
19. В древнем Риме в провинциях руководили системой сбора налогов:
 - А) магистрат
 - В) патриции
 - С) плебеи
 - Д) сенаторы
 - Е) всадники

20. «1. Девятнадцатая поправка к Конституции предложена 66-м конгрессом 4 июня 1919 г., когда она была принята сенатом. После одобрения палатой представителей поправка была ратифицирована 18 августа 1920 г.

Поправка XX

Раздел 1. Срок полномочий президента и вице-президента оканчивается в полдень двадцатого января, а срок полномочий сенаторов и представителей — в полдень третьего января того года, в который эти полномочия должны кончиться, с этого же времени начинается срок полномочий их преемников.

Раздел 2. Конгресс собирается не реже одного раза в год, и его сессии начинаются в полдень третьего января, если только конгресс законом не установит другой день.

2. Двадцатая поправка к Конституции была предложена 72-м конгрессом 2 марта 1932 г., когда она была принята сенатом и одобрена палатой представителей. Ратификация поправки закончена 23 января 1933 г.».

Определите по тексту страну, в конституцию которой были внесены данные поправки:

- A) Англии
- B) СССР
- C) Франции
- D) Италии
- E) США

***Инструкция:** Вам предлагаются задания, в которых могут быть один или несколько правильных ответов. Выбранный ответ необходимо отметить на листе ответов путем полного закрашивания соответствующего кружка.*

В тестовых заданиях с выбором одного или нескольких правильных ответов количество правильных ответов может быть не более трех.

21. Морской(-ие) торговый(-е) центр(-ы) Китая в VI-VIII вв.:

- A) Нанкин
- B) Цзяжу
- C) Чанъань
- D) Тайюань
- E) Лоян
- F) Чжаньцзян
- G) Гуанчжоу
- H) Пекин

22. Для архитектурных сооружений готического стиля в XII-XV веках характерно(-ы):
- A) суровость
 - B) высокие башни
 - C) мощные стены
 - D) полукруглая арка
 - E) массивность
 - F) просторные светлые окна
 - G) высокие купола
 - H) стрельчатые своды
23. Тильзитский мир заключили:
- A) Николай I
 - B) Луи Наполеон II
 - C) Александр II
 - D) Наполеон
 - E) Георг II
 - F) Александр I
 - G) Георг I
 - H) Николай II
24. Советы, являвшиеся верховной законной структурой Цинской империи:
- A) духовный
 - B) земельный
 - C) законный
 - D) религиозный
 - E) верховный
 - F) военный
 - G) хозяйственный
 - H) административный
25. Правители России эпохи «дворцовых переворотов»
- A) Александр I
 - B) Петр II
 - C) Петр III
 - D) Николай II
 - E) Николай I
 - F) Александр II
 - G) Иван VI
 - H) Борис Годунова

26. В 1939 г. Германия аннексировала:
- A) Чехию
 - B) Мексику
 - C) Бразилию
 - D) Аргентину
 - E) Болгарию
 - F) Югославию
 - G) Финляндию
 - H) Моравию
27. В начале 1898 г. Китай, по соглашению, передал России:
- A) полуостров Ляодун
 - B) гавань Массауа
 - C) порт-Артур
 - D) провинцию Шаньдун
 - E) провинцию Гуаньчжоу
 - F) бухту Цзяочжоу
 - G) бухту Гуанжоувань
 - H) порт Циндао
28. В марте 1925 году разгорелась борьба за власть между партиями в Китае:
- A) социалисты
 - B) герондисты
 - C) либералы
 - D) республиканцы
 - E) вафдисты
 - F) коммунисты
 - G) младотурки
 - H) гоминьдан
29. В 2004 г. в Европейский союз приняты:
- A) Албания
 - B) Румыния
 - C) Россия
 - D) Франция
 - E) Венгрия
 - F) Великобритания
 - G) Польша
 - H) Болгария

30. В 2004 г. в Европейский союз приняты:

- А) Польша
- В) Франция
- С) Россия
- Д) Болгария
- Е) Румыния
- Ф) Великобритания
- Г) Венгрия
- Н) Албания

ТЕСТ ПО ВСЕМИРНОЙ ИСТОРИИ ЗАВЕРШЁН

ЧЕЛОВЕК. ОБЩЕСТВО. ПРАВО

***Инструкция:** Вам предлагаются задания с одним правильным ответом из пяти предложенных. Выбранный ответ необходимо отметить на листе ответов путем полного закрашивания соответствующего кружка.*

1. Основные формы мировоззрения:
 - A) религия, естествознание, гуманизм
 - B) естествознание, религия, мифология
 - C) мифология, религия, философия
 - D) философия, естествознание, гуманизм
 - E) гуманизм, религия, философия
2. Поиск сути и смысла жизни, попытка найти свое место в жизни, стремление к творчеству, характеризуется как:
 - A) культурные потребности
 - B) культурные действия
 - C) культурная среда
 - D) культурная преемственность
 - E) культурные отношения
3. Д.И.Менделеев в установлении периодического закона использовал методы:
 - A) синтез, индукция
 - B) анализ, синтез
 - C) наблюдение, дедукция
 - D) индукция, дедукция
 - E) анализ, наблюдение
4. Интегративным показателем сформировавшейся этнической общности служит:
 - A) культурная интеграция
 - B) географическое местоположение
 - C) этническое самосознание
 - D) социальная память
 - E) исторические условия
5. Готовность бескорыстно действовать на пользу другим:
 - A) космополитизм
 - B) пацифизм
 - C) энтузиазм
 - D) перцепция
 - E) альтруизм
6. Основоположник формальной социологии:
 - A) П.Сорокин
 - B) О.Конт
 - C) Г.Зиммель
 - D) Р.Отто
 - E) Э.Дюркгейм

7. Автор изречения: «хорошие законы ведут к процветанию государства, а свободная собственность есть основное условие его блеска»
- А) Т.Локк
 - В) Дж.Локк
 - С) И.Кант
 - Д) Г.Гегель
 - Е) Р.Оуэн
8. Один из первых документов в новое время, законодательно закрепляющий права и свободы человека:
- А) Пакт о гражданских и политических правах
 - В) Декларация прав человека и гражданина во Франции
 - С) Всеобщая Декларация прав человека
 - Д) Конституция СССР
 - Е) «Законы XII таблиц»
9. Имеет высшую юридическую силу:
- А) Гражданский Кодекс Республики Казахстан
 - В) Административный Кодекс Республики Казахстан
 - С) Закон Республики Казахстан
 - Д) Конституционный Закон Республики Казахстан
 - Е) Конституция Республики Казахстан
10. Идеи правового государства не противопоставлены:
- А) произволу должностных лиц
 - В) установлению тоталитарного режима
 - С) бесконтрольности власти
 - Д) разрешению конфликта мирным путем
 - Е) установлению диктатуры
11. Обсуждение в кругу друзей прочитанной книги относится к виду общения:
- А) Виртуальному
 - В) Досуговому
 - С) Ритуальному
 - Д) Межкультурному
 - Е) Деловому
12. Усвоение норм устного и письменного литературного языка, сложившихся в процессе развития общества:
- А) культурные потребности
 - В) культурные действия
 - С) культурная среда
 - Д) культурные отношения
 - Е) культура речи

13. Наука, рассматривающая личность в качестве устойчивой целостности психических процессов, свойств, отношений:
- А) политология
 - В) философия
 - С) онтология
 - Д) психология
 - Е) социология
14. К косвенным факторам воздействия на экономический рост относят:
- А) трудовые ресурсы
 - В) экономическая политика государства
 - С) научно-технический прогресс
 - Д) расширение экспортных поставок
 - Е) основной капитал
15. Несовершеннолетние признаются недееспособными до достижения
- А) 16-ти летнего возраста
 - В) 18-ти летнего возраста
 - С) 14-ти летнего возраста
 - Д) 15-ти летнего возраста
 - Е) 12-ти летнего возраста
16. Не входит в понятие «деятельность»:
- А) процесс
 - В) темперамент
 - С) мотив
 - Д) средства
 - Е) цель
17. Сфера общественной жизни, охватывающая различные формы и уровни общественного сознания:
- А) духовная
 - В) политическая
 - С) экономическая
 - Д) социальная
 - Е) материальная
18. Приведите в соответствие деятельности общества:
- А-осуществление производства общественных благ;
Б-деятельность по социальному обеспечению населения и сферы их применения;
- 1) обеспечение выплат пенсий по старости
 - 2) предоставление льготных путевок в дома отдыха многодетным семьям
 - 3) организация работы общественного транспорта
 - 4) организация школьного питания
- А) А-1,4; Б-3,2
 - В) А-2,3; Б-4,1
 - С) А-2,4; Б-1,3
 - Д) А-3,4; Б-1,2
 - Е) А-1,3; Б-2,4

19. В ходе бракоразводного процесса решается вопрос: «С кем из родителей останется несовершеннолетний ребенок?» С какого возраста, учет мнения ребенка в суде обязателен:
- А) по достижении 12-ти летнего возраста
 - В) по достижении 9-ти летнего возраста
 - С) по достижении 8-ми летнего возраста
 - Д) по достижении 10-ти летнего возраста
 - Е) по достижении 11-ти летнего возраста
20. Участие в борьбе за государственную власть, за реализацию выработанного политического курса - одна из функций:
- А) органов местного самоуправления
 - В) правительства
 - С) политических партий
 - Д) государственных комитетов
 - Е) общественных движений

Инструкция: Вам предлагаются задания, в которых могут быть один или несколько правильных ответов. Выбранный ответ необходимо отметить на листе ответов путем полного закрашивания соответствующего кружка.

В тестовых заданиях с выбором одного или нескольких правильных ответов количество правильных ответов может быть не более трех.

21. Проблемой человека занимается (-ются) наука (-и):
- А) физиология
 - В) геральдика
 - С) история
 - Д) этногеография
 - Е) экономика
 - Ф) геология
 - Г) педагогика
 - Н) антропология
22. Способ организации жизни и деятельности человека, уровень исторического развития общества и человека, проявляющийся в создании материальных и духовных ценностей:
- А) общественные отношения
 - В) культура
 - С) наука
 - Д) общество
 - Е) творчество
 - Ф) государственность
 - Г) политика
 - Н) трудовая деятельность

23. Категории понятия истины:

- А) относительная
- В) объективная
- С) реальная
- Д) субъективная
- Е) материальная
- Ф) вымышленная
- Г) истинная
- Н) абсолютная

24. Философия в переводе с древнегреческого означает:

- А) способ мышления
- В) творческие способности
- С) эрудиция
- Д) социально-психологическая компетентность
- Е) размышление
- Ф) любовь к мудрости
- Г) талант
- Н) сознание

25. К социальным потребностям по А.Маслоу относится (-ятся):

- А) статус
- В) авторитет
- С) жажда
- Д) любовь
- Е) власть
- Ф) безопасность
- Г) защита
- Н) отдых

26. Год принятия общей части Гражданского Кодекса РК:

- А) 14 января 1999 г.
- В) 22 декабря 1996 г.
- С) 14 января 1993 г.
- Д) 1 июля 1999 г.
- Е) 1 марта 1995 г.
- Ф) 14 июля 1990 г.
- Г) 27 декабря 1994 г.
- Н) 17 января 1998 г.

27. Дополнительные условия трудового договора устанавливают
- A) изменение даты трудового договора
 - B) изменение места работы по инициативе администрации
 - C) место работы
 - D) условия о времени начала работы после даты заключения трудового договора
 - E) только льготы администрации сотруднику
 - F) предоставление возможности работнику выполнять трудовые функции
 - G) изменение места работы по обоюдному соглашению сторон
 - H) льготы и преимущества для работника
28. Идея правового государства противоположна произволу во всех его разновидностях и направлена на достижение следующих целей:
- A) построение общей стратегии взаимодействия
 - B) ограничение власти
 - C) не соблюдение принципа мирного разрешения конфликтов
 - D) охрана и защита прав и свобод граждан
 - E) неограниченная власть
 - F) на пользование достижениями культуры
 - G) отсутствие общей стратегии взаимодействия
 - H) формирование высокой правовой культуры и уважения к закону
29. Компоненты мировоззрения:
- A) знания
 - B) трудовые навыки
 - C) мышление
 - D) ценности и нормы
 - E) эстетика
 - F) убеждения и верования
 - G) идеология
 - H) религия
30. К уровням организации живой природы относится(-ятся):
- A) молекулы
 - B) макротела
 - C) белки
 - D) атомы
 - E) планеты
 - F) биоценозы
 - G) вакуум
 - H) популяции

ТЕСТ ПО ЧЕЛОВЕК. ОБЩЕСТВО. ПРАВО ЗАВЕРШЁН

